






Pré-teste de Física 1

Nome: _____

Data: _____

Professor(a): _____






Preencha os círculos completamente. Correto:  Incorreto:  






Matrícula






Coloque seu número de matrícula nos quadrados da primeira linha. Então preencha o círculo com o número correspondente nas colunas verticais.






0	0	0	0	0	0	0	0
1	1	1	1	1	1	1	1
2	2	2	2	2	2	2	2
3	3	3	3	3	3	3	3
4	4	4	4	4	4	4	4
5	5	5	5	5	5	5	5
6	6	6	6	6	6	6	6
7	7	7	7	7	7	7	7
8	8	8	8	8	8	8	8
9	9	9	9	9	9	9	9






Respostas






1     






2     






3     






4     






5     






6     






7     






8     






9     






10     






11     






12     






13     






14     

15     

16     

17     

18     

19     

20 